

課題：圓周的量度及計算

年級：六年級(上學期)

單元：圓周

單元學習重點：

- (一) 圓周的計算
 (二) 解答有關圓周的應用題

單元檢測目標：

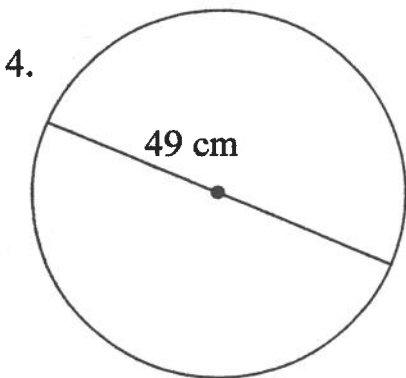
課題	學習重點	檢測工具
圓周	1. 圓周的計算	a. 計算圓周。 b. 從已知的圓周求它的直徑。 c. 從已知的圓周求它的半徑。
	2. 解答有關圓周的應用題。	a. 能解答求圓周的應用題。 b. 能解答由圓周求直徑的應用題。 c. 能解答涉及圓周的應用題。
		達標檢測工 (12)

學習重點 1：圓周的計算

一. 完成下列各題。(取 $\pi = 3.14$)

題號	圓	半徑	直徑	圓周
1.	A		8 cm	25.12 cm ✓
2.	B		10 cm ✓	31.4 cm
3.	C	2 cm ✓		12.56 cm

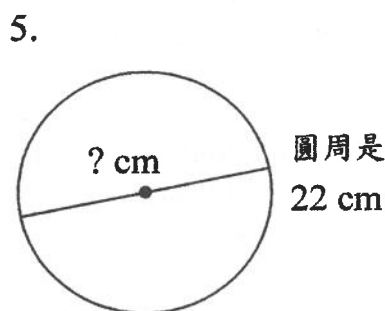
二. 求下列各圓的圓周、直徑或半徑。(黑點為圓心，取 $\pi = \frac{22}{7}$)



圓周是 154 cm ✓

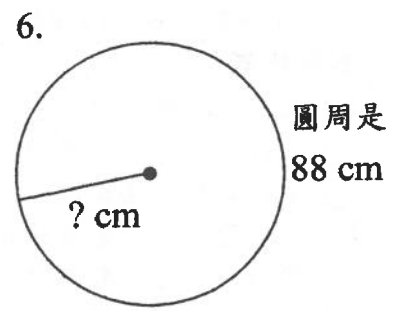
$$7 \times 49 \times \frac{22}{7}$$

$$\begin{array}{r} 22 \\ \times 17 \\ \hline 154 \end{array}$$



直徑是 7 cm ✓

$$22 \times \frac{7}{22}$$



半徑是 14 cm ✓

$$4 \times 88 \times \frac{7}{22}$$

學習重點 2：解答有關圓周的應用題。

7. 圓形噴水池的半徑是 3 m，它的周界是多少 m？（取 $\pi = 3.14$ ）（列式計算）

$$3 \times 2 \times 3.14$$

$$= 18.84$$

∴ 它的周界是 18.84 m. ✓

8. 模型火車在直徑 7 米的圓形軌道上行走了 3 圈，火車共行走了多少米？（取 $\pi = \frac{22}{7}$ ）（列式計算）

$$7 \times \frac{22}{7} \times 3$$

$$= 22 \times 3$$

$$= 66$$

∴ 火車共行走了 66 米. ✓

9. 爸爸用一條長 28.26 厘米的鐵線剛好圍成一個圓，求這個圓的直徑。（取 $\pi = 3.14$ ）（列式計算）

$$28.26 \div 3.14$$

$$= 9$$

∴ 這個圓的直徑是 9 cm. ✓

自我反思：	完全掌握 😊	部分掌握 😐	仍需努力 😞
學習目標：(用✓表示) 我能			
1a. 計算圓周的方法。	✓		
1b. 從已知的圓周求它的直徑。	✓		
1c. 從已知的圓周求它的半徑。	✓		
2a. 解答求圓周的應用題。	✓		
2b. 解答由圓周求直徑的應用題。	✓		
2c. 解答涉及圓周的應用題。	✓		
教師回饋：			
<input type="checkbox"/> 你要小心閱讀題目所提供的 π 。 <input type="checkbox"/> 進行分數除法運算時，除號變乘號及除數的分子分母要顛倒。 <input type="checkbox"/> 進行分數乘法運算時，要學懂用 7 或 22 進行約簡。 <input type="checkbox"/> 需加強練習分數乘法的運算 <input type="checkbox"/> 需加強練習小數乘法的運算。 <input type="checkbox"/> 需加強練習分數除法的運算。 <input type="checkbox"/> 需加強練習小數除法的運算。			
教師其他意見： <u>計算精準！理解力高！</u>			