


一. 請選出正確的工具量度物件的長度或厚度，並把結果記錄。(以毫米作量度單位)*(四選一)

1. 同學手掌的長度




我用 *(滾輪 / 軟尺 / 直尺)

來量度。(* 圈出答案)

它的長度是 _____ ()。

2. 圍繞水樽一周的長度




我用 *(滾輪 / 軟尺 / 直尺)

來量度。(* 圈出答案)

它的長度是 _____ ()。

3. 圖書的長度




我用 *(滾輪 / 軟尺 / 直尺)

來量度。(* 圈出答案)

它的長度是 127 (毫米)。

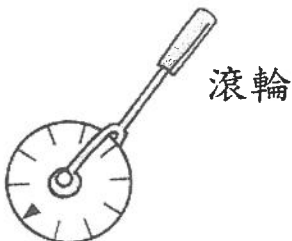
4. 字典的厚度



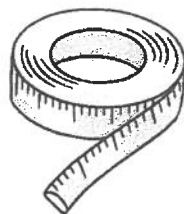
我用 *(滾輪 / 軟尺 / 直尺)

來量度。(* 圈出答案)

它的厚度是 _____ ()。



滾輪



軟尺



直尺