



救世軍林拔中紀念學校

2024-2025 年度 數學科 階段性評估(2)---實作評量評估報告

日期：10-10-2024 班別：P.3(C) 姓名：翁鎧沂 ( 22 )


課題：毫米

	學習重點	完全掌握 	部分掌握 	仍需努力 
1.	學生能選擇合適的量度工具。	✓		
2.	學生能正確使用量度工具來量度物件的長度。	✓		
3.	學生能正確填寫物件的長度。	✓		
4.	學生能正確匯報結果。	✓		

老師評語/跟進：


鎧沂能有效選擇合適量度工具，並正確地量度物件及適當使用量度單位表達。讚！

科任簽署：

家長簽署：

日期：20.11.2024

一. 選出最適合的工具進行量度，並把量度所得的結果記錄下來。

<p>1. 自己手掌的長度</p>  <p>我用 *( 軟尺 / 厘米尺 / 米尺) 來量度。(*圈出答案) 它的長度是_____毫米。</p>	<p>2. 水樽外圍的長度</p>  <p>我用 *( 軟尺 / 厘米尺 / 米尺) 來量度。(*圈出答案) 它的長度是_____毫米。</p>
<p>3. 智能卡的長度</p>  <p>我用 *( 軟尺 / 厘米尺 / 米尺) 來量度。(*圈出答案) 它的長度是_____毫米。</p>	<p>4. 字典的厚度</p>  <p>我用 *( 軟尺 / <u>厘米尺</u> / 米尺), 來量度。(*圈出答案) 它的長度是 &gt; <u>13</u> 毫米。</p>

\*\*\*只需完成其中一題\*\*\*