




救世軍林拔中紀念學校

2022-2023 年度 數學科 階段性評估(2)----實作評量評估報告

學生姓名：余音彤 (27)

班別：P.3(B)

課題：毫米

	學習重點	完全掌握 	部分掌握 	仍需努力 
1.	學生能為物件選擇合適的量度工具。	✓		
2.	學生能正確使用量度工具來量度物件的長度。	✓		
3.	學生能正確填寫長度。 (以毫米作量度單位)		✓	
4.	學生能正確匯報結果。	✓		

老師評語/跟進：



老師看到你的努力!繼續加油!

音彤認真量度，也清楚如何使用工具作量度。

最後由老師提示下，能使用本評估要求的單位作答。


科任簽署：

家長簽署：_____

日期：_____

一. 請選出正確的工具量度物件的長度或厚度，並把結果記錄。(以毫米作量度單位)*(四選一)

1. 同學手掌的長度



我用 *(滾輪 / 軟尺 / 直尺)

來量度。(*圈出答案)

它的長度是 _____ ()。

2. 圍繞水樽一周的長度




我用 *(滾輪 / 軟尺 / 直尺)

來量度。(*圈出答案)

它的長度是 _____ ()。

3. 圖書的長度




我用 *(滾輪 / 軟尺 / 直尺)

來量度。(*圈出答案)

它的長度是 290 (cm)。

mm

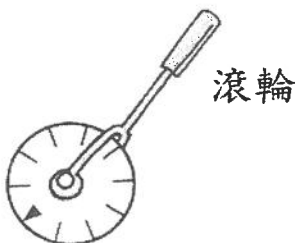
4. 字典的厚度



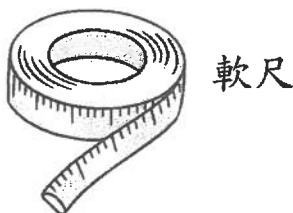
我用 *(滾輪 / 軟尺 / 直尺)

來量度。(*圈出答案)

它的厚度是 _____ ()。



滾輪



軟尺



直尺