




救世軍林拔中紀念學校

2022-2023 年度 一年級 數學科 階段性評估(2)----實作評量評估報告

日期: 28/3/2023 班別: P.1(E) 學生姓名: 張啟樂

課題: 立體圖形

Seen
29 MAR 2023


	學習重點	完全 掌握 	部分 掌握 	仍需 努力 
1.	學生能直觀辨認立體圖形。	✓		
2.	學生能辨別物件屬哪種立體圖形及讀出該立體圖形的名稱。	✓		
3.	學生能按指示把立體圖形進行分類。	✓		

老師評語/跟進:

用心完成, 老師欣賞你! 能快速辨認立體圖形, 圖像處理能力快。

愛智自導自學!

科任簽署: 


家長簽署: 

日期: 13/4

救世軍林拔中紀念學校

2022-2023 年度 一年級 數學科 階段性評估(2)---實作評量評估活動

觀察立體圖形，根據老師的指示回答問題。



1. 在立體圖形中找出其中一個

(角柱 / 圓柱 / 角錐 / 圓錐 / 球)。(老師圈出)

答：這立體圖形是 *(1/2/3/4/5/6/7/8)。(*圈出答案)

2. 物件(1/2/3/4/5/6/7/8)(老師圈出)像哪一種立體圖形?

答：*(角柱 / 圓柱 / 角錐 / 圓錐 / 球)。(*圈出答案)

3. 把立體圖形分類，

找出**所有**角柱、圓柱、角錐、圓錐、球或其他，並把它們放在相應的字卡上。

(老師顯示不同字卡讓學生進行分類)