




救世軍林拔中紀念學校

2023-2024 年度 一年級 數學科 階段性評估(2)----實作評量評估報告

日期：四月二十五日 班別：P.1(▽) 學生姓名：梁沛勳(2)


課題：立體圖形

	學習重點	完全掌握 	部分掌握 	仍需努力 
1.	學生能直觀辨認立體圖形。		✓	
2.	學生能辨別物件屬哪種立體圖形及讀出該立體圖形的名稱。		✓	
3.	學生能按指示把立體圖形進行分類。		✓	

老師評語/跟進：

能仔細聆聽老師指示，唯未能分辨④、⑥立體圖形，  
加油。

科任簽署：


家長簽署：

日期：29-4-2024

救世軍林拔中紀念學校

2023-2024 年度 一年級 數學科 階段性評估(2)----實作評量評估活動

觀察立體圖形，根據老師的指示回答問題。



1. 在立體圖形中找出其中一個

( 角柱 / 圓柱 / 角錐 / 圓錐 / 球 )。(老師圈出)

答：這立體圖形是 \*(1/2/3/4/5/6/7/8)。( \*圈出答案)

2. 物件(1/2/3/4/5/6/7/8)(老師圈出) 像哪一種立體圖形？

答：\*( 角柱 / 圓柱 / 角錐 / 圓錐 / 球 )。( \*圈出答案)

3. 把立體圖形分類，

找出**所有**角柱、圓柱、角錐、圓錐、球或其他，並把它們放在相應的字卡上。

(老師顯示不同字卡讓學生進行分類)