

救世軍林拔中紀念學校

2024-2025 年度 數學科 階段性評估(2)----實作評量評估報告


日期： 1/11 班別：P.3(A) 姓名：左日堯樂 (10)

課題：毫米

	學習重點	完全掌握 	部分掌握 	仍需努力 
1.	學生能選擇合適的量度工具。			
2.	學生能正確使用量度工具來量度物件的長度。			
3.	學生能正確填寫物件的長度。			
4.	學生能正確匯報結果。			

老師評語/跟進：



勇敢地挑戰難題，你將收獲成長的果實！

科任簽署：

家長簽署：_____

日期：_____

一. 選出最適合的工具進行量度，並把量度所得的結果記錄下來。

<p>1. 自己手掌的長度</p>  <p>我用 *(軟尺 / 厘米尺 / 米尺) 來量度。(*圈出答案) 它的長度是_____毫米。</p>	<p>2. 水樽外圍的長度</p>  <p>我用 *(<u>軟尺</u> / 厘米尺 / 米尺) 來量度。(*圈出答案) 它的長度是 <u>170</u> 毫米。</p>
<p>3. 智能卡的長度</p>  <p>我用 *(軟尺 / 厘米尺 / 米尺) 來量度。(*圈出答案) 它的長度是_____毫米。</p>	<p>4. 字典的厚度</p>  <p>我用 *(軟尺 / 厘米尺 / 米尺) 來量度。(*圈出答案) 它的長度是_____毫米。</p>

只需完成其中一題